

מדבקה

סיון תשס"ה - יוני 2005

תפנית

מבדק סוף שנה"ל תשס"ה במתמטיקה

שכבה ב'

לרשותכם שעתיים .
מותר שמוש באמצעי המחשפה .

בהצלחה

פתרו :

(1) $34 + 25 = \underline{\hspace{2cm}}$

(2) $67 - 32 = \underline{\hspace{2cm}}$

כתבו סימן מתאים $>$, $<$ או $=$

(3) חמשים ושבע $\underline{\hspace{2cm}}$ 74

(4) 85 יחידות $\underline{\hspace{2cm}}$ 9 עשרות

(5) כתבו בספרות :

שבעים ותשע $\underline{\hspace{2cm}}$

(6) כתבו במלים :

46

כתבו מספר מתאים :

$$\underline{\hspace{2cm}} < 35 \quad (7)$$

$$49 < \underline{\hspace{2cm}} < 59 \quad (8)$$

(9) לרחל היו 38 בולים .
רחל נתנה ליונתן 6 בולים .
כמה בולים נשארו לרחל ?

תרגיל : _____

תשובה : _____

פתרו :

$$10 - 5 + 3 = \underline{\hspace{2cm}} \quad (10)$$

$$5 \times (1 + 2) = \underline{\hspace{2cm}} \quad (11)$$

(12) הקיפו שתי תשובות נכונות :

40 שווה :

4 יחידות

40 יחידות

40 עשרות

4 עשרות

(13) לאורי היו 32 גולות . בהפסקה אורי הקניח 10 גולות .
כמה גולות יש לאורי בסך הכל ?

תרגיל _____

תשובה : _____

פתרו :

$49 + 34 = \underline{\quad\quad} \quad (15)$

$28 + 62 = \underline{\quad\quad} \quad (14)$

$51 - 22 = \underline{\quad\quad} \quad (17)$

$70 - 13 = \underline{\quad\quad} \quad (16)$

הנשלימו :

$35 + \underline{\quad\quad} = 55 \quad (18)$

$\underline{\quad\quad} - 20 = 20 \quad (19)$

(20) כמה ילדים יושבים בכיתה ,

אם בכיתה יש 6 שלחנות , וילד כל שלחון יושבים 3 ילדים ?

תרגיל : _____

תשובה : _____

(21) רותי קנתה 20 מעטפות גדולות , 12 מעטפות קטנות ו-5 בולים .
כמה מעטפות קנתה רותי ?

תרגיל : _____

תשובה : _____

(22) אם תחסירו ממני 6 , תקבלו 31 . מי אני ? _____
תרגיל : _____

(23) כתבו תרגיל חבור ותרגיל כפל מתאימים לציור .



$$\underline{\quad} + \underline{\quad} + \underline{\quad} = \underline{\quad}$$
$$\underline{\quad} \times \underline{\quad} = \underline{\quad}$$

פתרו :


$$5 \times 4 = \underline{\quad} \quad (24)$$

$$2 \times 6 = \underline{\quad} \quad (25)$$

$$32 : 8 = \underline{\quad} \quad (26)$$

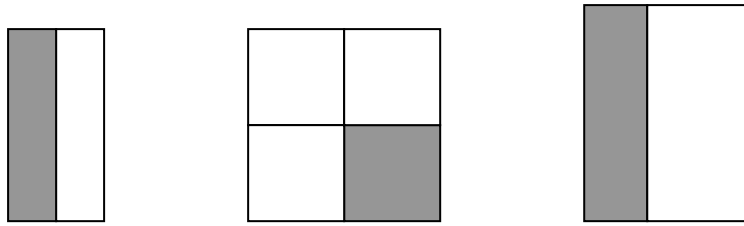
$$27 : 3 = \underline{\quad} \quad (27)$$

(28) כתבו מהו החלק הצבוע .

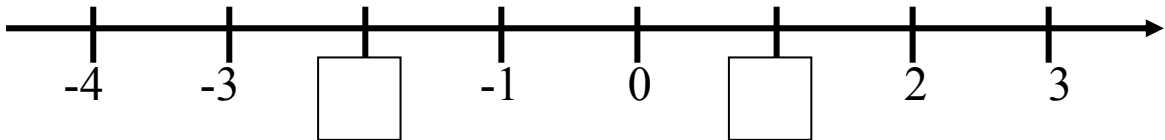


החלק הצבוע _____

(29) לפניכם שלוש צורות
הקיפו את הצורה בה צבוע קצי.

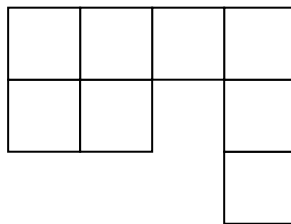


(30) הנשלימו את המספרים החסרים במשבצות.



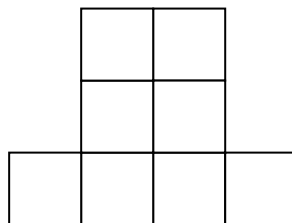
(31) הנשלימו:

שטח הצורה _____ רבועים




(32) הנשלימו:

הקף הצורה _____ יחידות של




33) רונית סרטטה אלכסון ברבוע וצבעה משלש אחד .



מהו שם המשלש שרונית צבעה ? _____

34) סרטטו מלבן .



35) השלימו :

א. תלמידי פתה ב' צפו בהצגה שנמשכה 30 _____
דקות/שעות

ב. גלית ישנה בכל יממה כ-9 _____
דקות/שעות

ג. השיעור נמשך 45 _____
דקות/שעות


36) לפני השנה אורית קוראת ספר במשך 30 דקות .

היא מתחלה לקר' א בשעה 7:30 בערב .

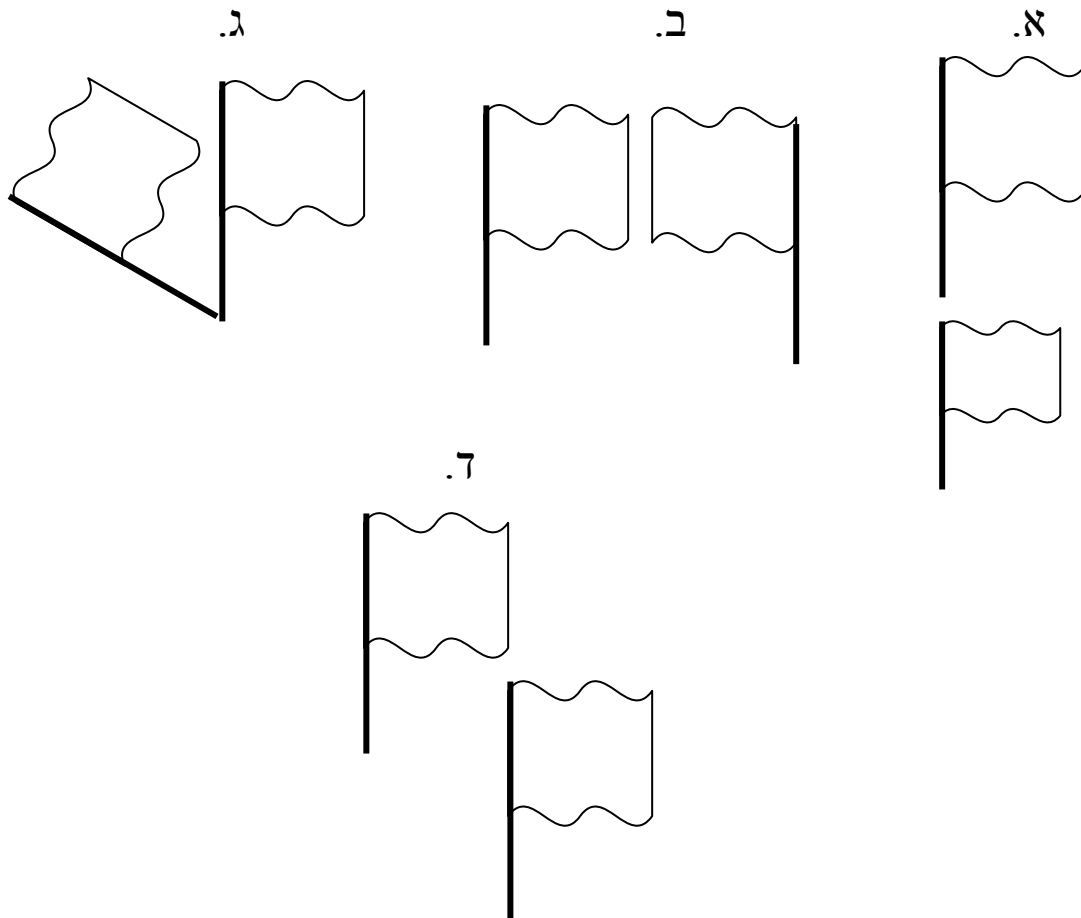
באיזו שעה תסיים אורית לקר' א את הספר ? _____

(37) התבוננו במ'אזנים והשלימו :

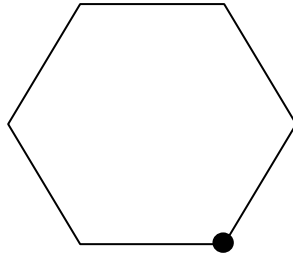
הדבי יותר _____ מהרכבת
קל / כבד



(38) הקיפו את הציור לשהתקבל על ידי הזזה .

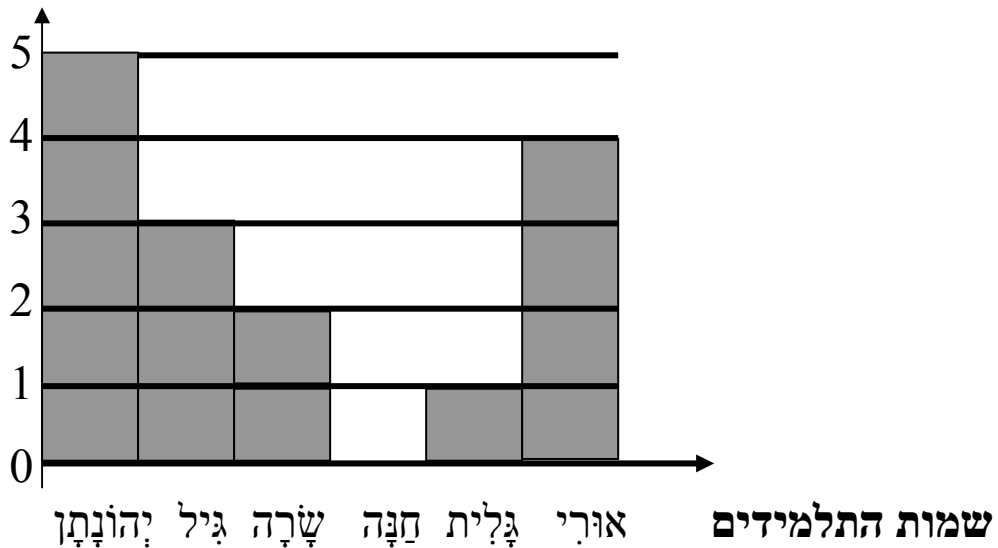


39) סרטטו אַת פל האַלכסוֹנים מֵהקדקוד המודגש



40) קבוצת תלמידים מפתה ב' בְּדָקָה כַּמָּה סְפָרִים קָרָא כ' ל ילד
 בְּחִפְזָת פסח .
 התלמידים הציגו אַת הַנְּתוּנִים בְּדִיאָגְרָמָה .

מספר הספרים



- א. כַּמָּה סְפָרִים קָרָאָה שָׂרָה ? _____
- ב. מִי קָרָא הַכִּי הַרְבֵּה סְפָרִים ? _____
- ג. מִי לֹא קָרָא בְּכֻלּוֹ סְפָרִים ? _____